

2 上 目錄

練習

課題

學習重點

頁次

1	三位數	<ul style="list-style-type: none"> 三位數的數數、讀數和寫數 認識三位數的各位值 比較三位數的大小 	2
2	每 50、100 個一數	<ul style="list-style-type: none"> 進行每 50 個、100 個一數 每 50 個、100 個一數的應用題 	4
3	加法 (一) * 不進位及一次進位	<ul style="list-style-type: none"> 加法計算及相關題目 加法應用題 	6
4	加法 (二) * 兩次進位	<ul style="list-style-type: none"> 加法計算及相關題目 加法應用題 	8
5	米	<ul style="list-style-type: none"> 認識「米」作為較大的量度單位 量度及比較長度和距離 選擇合適的工具進行量度 	10
6	角和直角	<ul style="list-style-type: none"> 認識角和直角 比較角的大小 製作角 	12
7	減法	<ul style="list-style-type: none"> 減法計算及相關題目 減法應用題 	14
8	柱體和錐體	<ul style="list-style-type: none"> 直觀辨認各種柱體和錐體 把立體圖形分類 製作立體圖形 	16
9	2、5 和 10 的乘法	<ul style="list-style-type: none"> 認識乘法的基本概念 乘法計算及相關題目 乘法應用題 	18
10	4 和 8 的乘法	<ul style="list-style-type: none"> 乘法計算及相關題目 乘法應用題 	20
11	時和分	<ul style="list-style-type: none"> 以時和分報時 量度活動所用的時間 計算活動的開始和結束時間 	22
12	一天的時間	<ul style="list-style-type: none"> 認識上午和下午 量度活動所用的時間 計算活動的開始和結束時間 	24
13	3 和 6 的乘法	<ul style="list-style-type: none"> 乘法計算及相關題目 乘法應用題 	26
14	7 和 9 的乘法	<ul style="list-style-type: none"> 乘法計算及相關題目 乘法應用題 	28
15	有趣的乘法	<ul style="list-style-type: none"> 認識乘法交換性質 認識 0 和 1 的乘法 	30
16	年、月、日	<ul style="list-style-type: none"> 認識每月的日數 認識「平年」及「閏年」的日數 閱讀月曆 	32

常犯錯誤

34

測驗一

36

測驗二

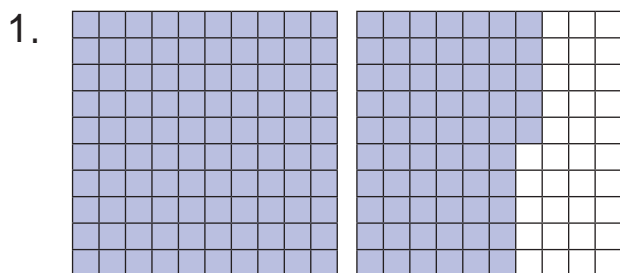
40

考試

44

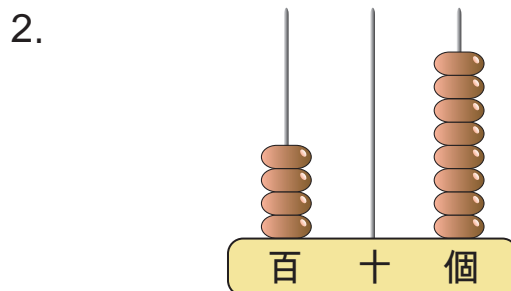


A. 三位數的數數、讀數和寫數



(a) 讀作：_____

(b) 寫作：_____



(a) 讀作：_____

(b) 寫作：_____

3. 用阿拉伯數字寫出「七百四十三」。

答案：_____

B. 認識三位數的各位值

4. (a) _____ 位數字是「4」，位值是 _____。

423

(b) _____ 位數字是 _____，數值是「3」。

(c) $423 = \underline{\hspace{2cm}} + \underline{\hspace{2cm}} + \underline{\hspace{2cm}}$
(百位數值) (十位數值) (個位數值)

5. 在258這個數中，數字「5」表示的數值是 * 500 / 50 / 5。

(* 圈出答案)

6. 以下哪一個數的百位數字是「6」而個位數字是「7」?

A. 679

B. 976

C. 697

D. 796




7.

數字「6」的數值是600，數字「4」是在個位，
十位數字比百位數字小，但比個位數字大。

根據上面指示，這個三位數是 _____。

合唱隊有4名男隊員，男隊員的人數是女隊員的一半。合唱隊有_____名女隊員。

18. 蛋糕師傅今天做了6個草莓蛋糕，共用去_____粒草莓。



19. 鋼琴班每堂長45分鐘。敏德的鋼琴班在 11:20 AM 開始，他將在_____午_____時_____分下課。

20. 今年是閏年，右圖是今天的日曆。

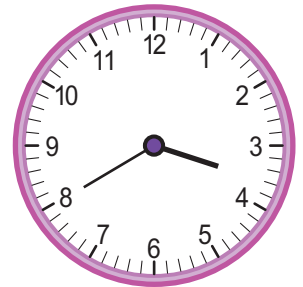
(a) 下星期一是_____月_____日。

(b) 媽媽在2月24日外遊，五天後回港。媽媽在星期_____回港。



21. (a) 右圖的時鐘顯示志朗放學的時間。他在下午_____時_____分放學。

(b) 志朗在34分鐘後回到家，當時是下午_____時_____分。



22. 以下是電視台某段時間的節目時間表。

節目	《卡通天地》	《新聞專題》	《家庭影院》	《媽媽煮意》
開始時間	11:25 a.m.	12:10 p.m.	1:05 p.m.	2:10 p.m.

(a) 《卡通天地》共播放_____小時_____分鐘。

(b) 右面顯示下午美珍看手錶的時間，當時是_____午_____時_____分，再過_____分鐘便開始播放《家庭影院》。



(c) 下午1時正在播放《_____》。(填上節目名稱)