




課次	課名	頁次
1	三位數	2
2	每 50 和 100 個一數	4
3	加法 (一)	6
4	加法 (二)	8
5	米	10
小重溫 1		12
故事劇場		14
6	角和直角	16
7	減法	18
8	柱體	20
9	錐體	22
10	乘法的認識	24
小重溫 2		26
豈有此數		28
11	2 的乘法	30
12	5 和 10 的乘法	32
13	4 和 8 的乘法	34
14	時和分	36
15	一天的時間	38
小重溫 3		40
趣題三級跳		42
16	有趣的乘法	44
17	3 和 6 的乘法	46
18	7 和 9 的乘法	48
19	0 和 1 的乘法	50
20	年、月、日	52
小重溫 4		54



隨書附送

- 上學期測驗 1 (第 1 至第 10 課)
- 上學期測驗 2 (第 11 至第 20 課)
- 上學期考試 (第 1 至第 20 課)



## 常規練習

在 \_\_\_\_\_ 上填上答案。

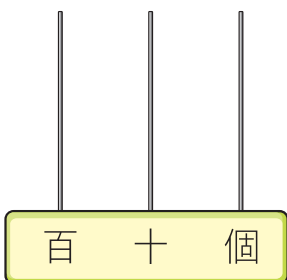
1.  $257 = \underline{\quad\quad} + \underline{\quad\quad} + \underline{\quad\quad}$ ，讀作 \_\_\_\_\_。

2.  $110 = \underline{\quad\quad} + \underline{\quad\quad} + \underline{\quad\quad}$ ，讀作 \_\_\_\_\_。

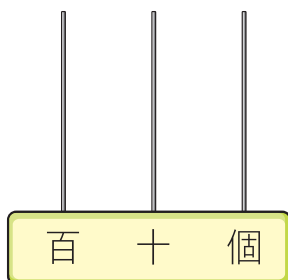
3.  $806 = \underline{\quad\quad} + \underline{\quad\quad} + \underline{\quad\quad}$ ，讀作 \_\_\_\_\_。

畫出算珠，表示以下各數。

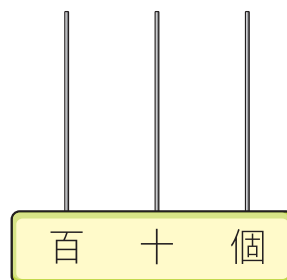
4. 614



5. 392



6. 400



## 題型特訓

7. 用阿拉伯數字寫出「九百零七」。

答案：\_\_\_\_\_

8. 寫出一個比 497 大，又比 504 小的雙數？

答案：\_\_\_\_\_

9. 以下哪一個數的百位數字是「8」？

A. 685

B. 718

C. 831

D. 984



10. 在 345 這個數中，數字「4」表示的數值是 \_\_\_\_\_。

11. 根據下列指示，在右面的方格內寫出一個三位數。

數字「2」是在個位，

數字「5」是在百位，

數字「6」的數值是 60。

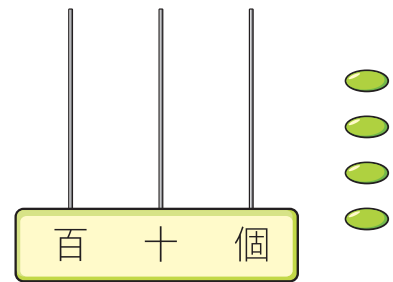
--	--	--

12. 利用右面三張數卡組成三個不同的三位數，然後把它們由大至小排列起來。

答案：\_\_\_\_\_，749，\_\_\_\_\_  
 (最大) (最小)



13. 把 4 粒算珠放在算柱上，以表示出最大的三位單數。把答案畫在右面的算柱上。



回答下列各題。

14.



原價 \$218  
 售價 \$78

跨課題時光機

1下 減法

例

	十	個
	5	7
-	2	6
	3	1

用直式計算減法時，先計算個位，然後計算十位。

(a) 在原價中，數字「8」是在 \_\_\_\_\_ 位。

(b) 弟弟有 \$18，他想購買這輛玩具車還欠 \$ \_\_\_\_\_。

15. 美琪的身高是 138 cm。

(a) 小邦 比一張椅子 \* 高 / 矮。 (\* 圈出答案)

(b) \* 小邦 / 美琪 較高。 (\* 圈出答案)

