



課次

課名

頁次

1	五位數	2
2	加法 (一)	4
3	加法 (二)	6
4	減法 (一)	8
5	減法 (二)	10

小重溫 1

12



故事劇場

14

6	毫米	16
7	公里	18
8	乘法 (一)	20
9	乘法 (二)	22
10	乘法 (三)	24

小重溫 2

26



豈有此數

28

11	乘法 (四)	30
12	除法 (一)	32
13	除法 (二)	34
14	除法 (三)	36
15	除法 (四)	38

小重溫 3

40



趣題三級跳

42

16	秒的認識	44
17	報時	46
18	垂直線	48
19	平行線	50
20	平行四邊形	52

小重溫 4

54



隨書附送

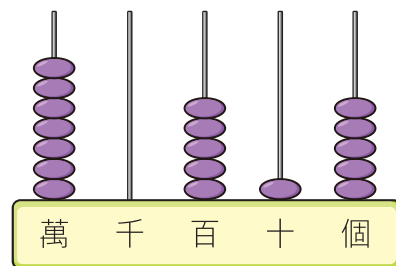
- 上學期測驗 1 (第 1 至第 10 課)
- 上學期測驗 2 (第 11 至第 20 課)
- 上學期考試 (第 1 至第 20 課)

五位數

常規練習

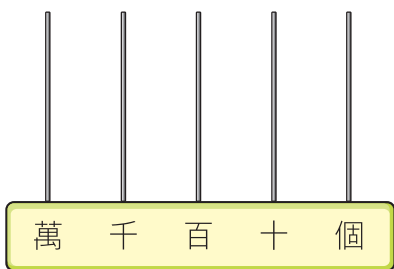
根據右面算柱代表的五位數，在 _____ 上填上答案。

- 讀作：_____
- 萬位數字是 _____，代表的數值是 _____。
- _____ 位數字是 0，代表的數值是 _____。
- 兩個「5」所代表的數值相差 _____。

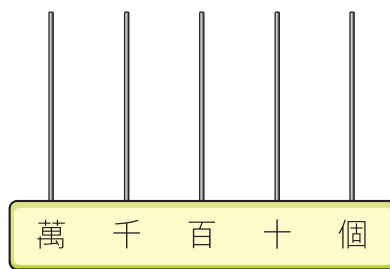


畫出算珠，表示以下各數。

5. 20 425



6. 六萬零三十



題型特訓

- 在 47 238 這個數中，數字「4」是在 _____ 位。
- 用阿拉伯數字寫出「三萬九千零一」。
答案：_____
- 根據下列指示，在右面的方格內寫出一個五位數。

- 數字「1」是在千位，
- 數字「2」是在百位，
- 數字「4」是在十位，
- 數字「6」是在萬位，
- 數字「8」是在個位。

--	--	--	--	--

10. 以下是三間旅行社推出「歐洲十天團」的旅行團費。

旅行社	新花旅行社	泰康旅行社	美景旅行社
團費	\$20 999	\$15 088	\$15 800

團費最便宜的是 _____ 旅行社，最貴的是 _____ 旅行社。

11. 用數字 0、1、4、6 和 8 組成三個不同的五位數，然後把它們由大至小排列起來。第二個數是 46 108，在橫線上填上適當的數。

答案：_____，46 108，_____
 (最大) (最小)



跨課題時光機

1上 有趣的加法

兩個數交換相加的結果都是相同的。
 例如： $4 + 8 = 12$
 $8 + 4 = 12$

回答下列各題。

12.



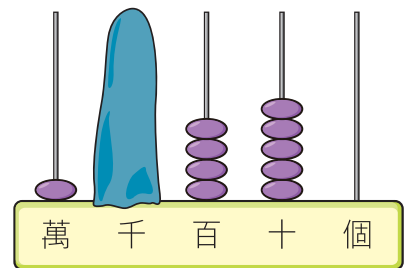
(a) 新新用以上的數卡組成了「13 479」，小欣則組成另一個五位數「▲」，如果 $13\ 479 + \blacktriangle = 57\ 450$ ，那麼 $\blacktriangle + 13\ 479 = ?$

答案：_____

(b) 利用以上的數卡組成一個最接近 74 000 的五位數。

答案：_____

13. 右面的算柱顯示一場足球比賽的入場人數，其中算柱的千位被遮蓋了。



(a) 入場人數比 11 000 人少，算柱的千位上有 _____ 粒算珠。

(b) 足球比賽在 6:15 p.m. 開始，1 小時 50 分鐘後在 _____ 午 _____ 時 _____ 分結束。